

Инструкция по оцениванию задания 7 проверочной работы по истории. 6 класс

Уважаемые эксперты по истории!

Задания для проверки находятся на столе заданий во вкладке «Мои экспертизы». Для того чтобы приступить к проверке задания 7, нажмите на кнопку «Начать экспертизу» (рис.1, кнопка выделена красным цветом).

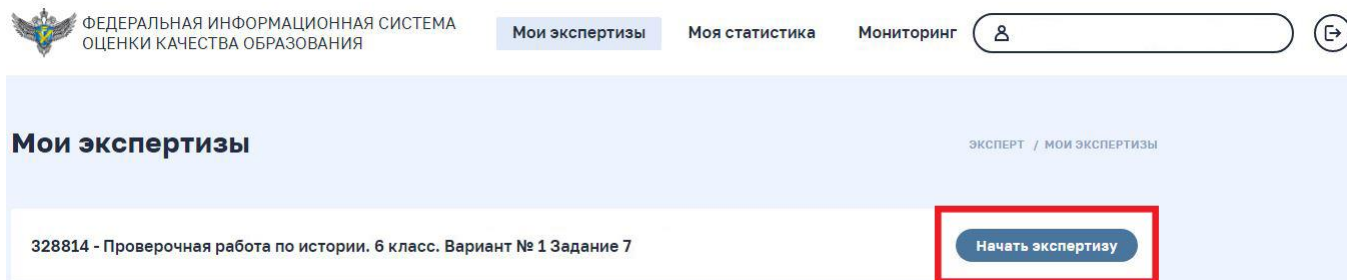


Рис.1.

Задание 7 раскроется на составляющие части (рис.2): информационную – 7.1 (содержит информацию о теме, которую выбрал обучающийся) и задание для оценивания – 7.2.

Информационная часть (тема, выбранная учеником) экспертом **НЕ ОЦЕНИВАЕТСЯ.**

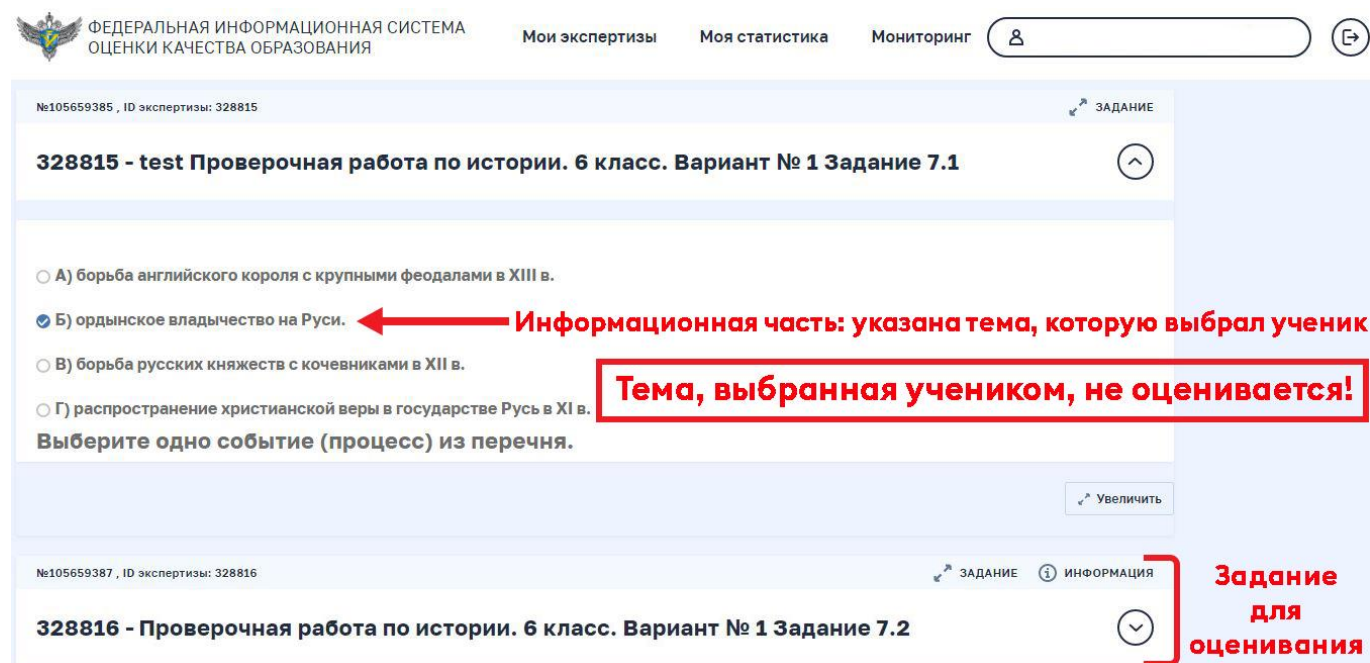


Рис.2.

Задание 7.2 появится на экране в свернутом виде! Чтобы раскрыть задание 7.2, необходимо нажать на иконку со стрелкой справа от задания (рис. 3).

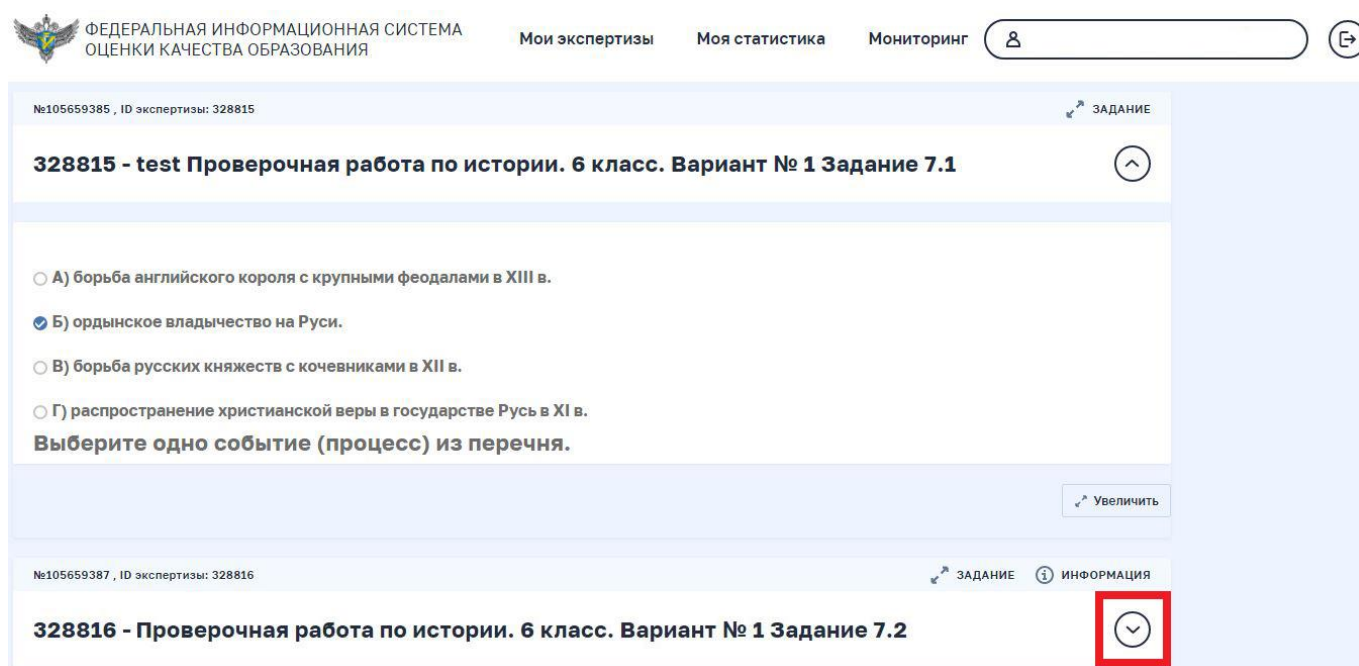


Рис.3.

Если задание 7.2 не уместилось на видимой части страницы, следует прокрутить страницу вниз с помощью колесика мыши или полосы прокрутки справа.

Задание 7.2 проверяется экспертом в соответствии с критериями оценивания. Критерии оценивания размещены во вкладке «Информация» (рис.4).

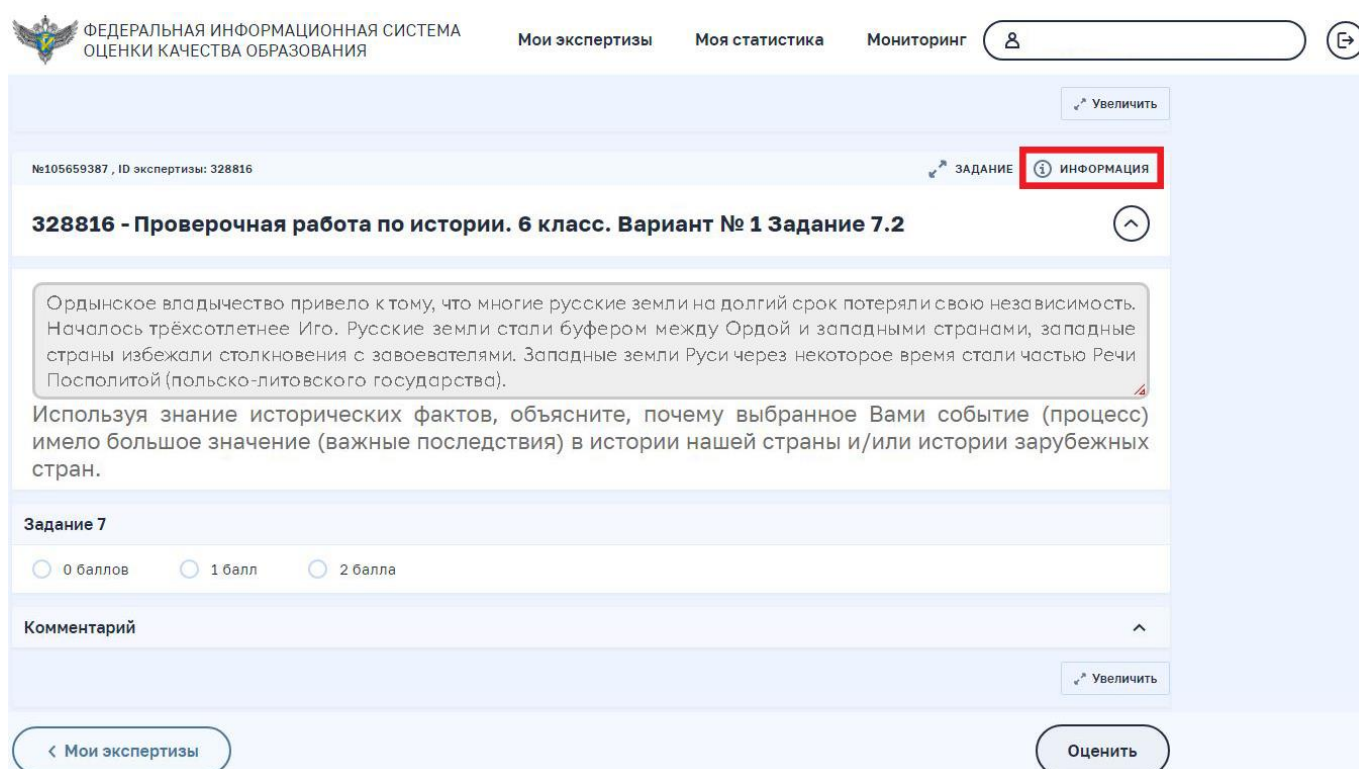


Рис.4.

По окончании проверки необходимо указать количество присвоенных баллов и нажать на кнопку «Оценить», которая находится в правом нижнем углу под заданием (рис.5).

ФЕДЕРАЛЬНАЯ ИНФОРМАЦИОННАЯ СИСТЕМА
ОЦЕНКИ КАЧЕСТВА ОБРАЗОВАНИЯ

Мои экспертизы Моя статистика Мониторинг

№105659387, ID экспертизы: 328816

ЗАДАНИЕ ИНФОРМАЦИЯ

328816 - Проверочная работа по истории. 6 класс. Вариант № 1 Задание 7.2

Ордынское владичество привело к тому, что многие русские земли на долгий срок потеряли свою независимость. Началось трёхсотлетнее Иго. Русские земли стали буфером между Ордой и западными странами, западные страны избежали столкновения с завоевателями. Западные земли Руси через некоторое время стали частью Речи Посполитой (польско-литовского государства).

Используя знание исторических фактов, объясните, почему выбранное Вами событие (процесс) имело большое значение (важные последствия) в истории нашей страны и/или истории зарубежных стран.

Задание 7

0 баллов 1 балл 2 балла ← **Указать количество баллов**

Комментарий

Оценить задание → **Оценить**

Рис.5.